

Bilingválne gymnázium C. S. Lewisa

Prijímacie skúšky

Test všeobecných študijných predpokladov

ID uchádzača: _____

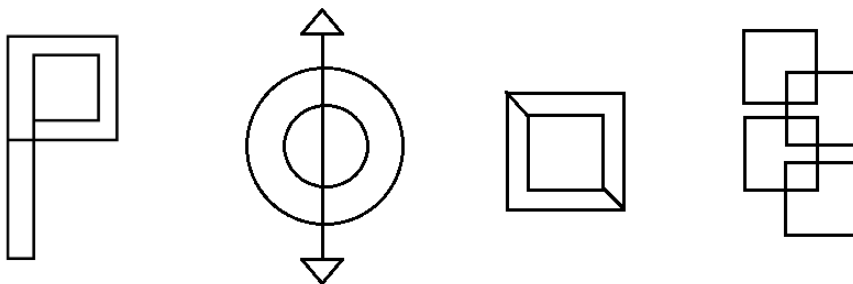
Počet bodov: _____ / 15 b

Apríl 2024

1. Päťčlenná rodina – otec, mama a ich traja synovia Maťo, Paťo a Samo spolu večerajú. Maťo dojedol skôr ako Paťo, ale neskôr ako mama. Samo dojedol skôr ako otec, ale neskôr ako Paťo. V akom poradí dojedli večeru?


Odpoveď _____

2. Ktoré z nasledujúcich tvarov je možné nakresliť jedným ťahom?



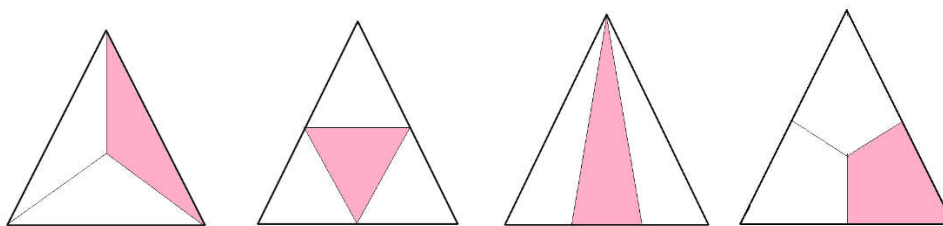
- A. ani jeden
- B. iba prvý a druhý
- C. iba prvé tri
- D. všetky okrem tretieho
- E. všetky štyri

3. Zmenou polohy jednej zo zápaliek je možné opraviť rovnosť. Napíš túto rovnosť.



Odpoveď _____

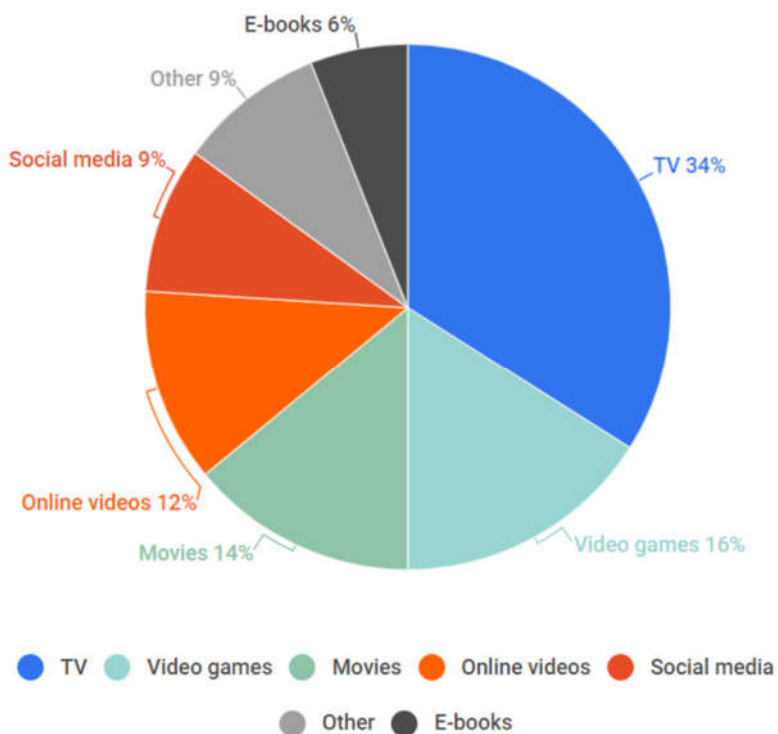
4. Pre každý z trojuholníkov na obrázku je možné sformulovať dôvod, prečo nepatrí do skupiny ostatných? Uveď dôvod, pre ktorý k ostatným nepatrí druhý trojuholník.



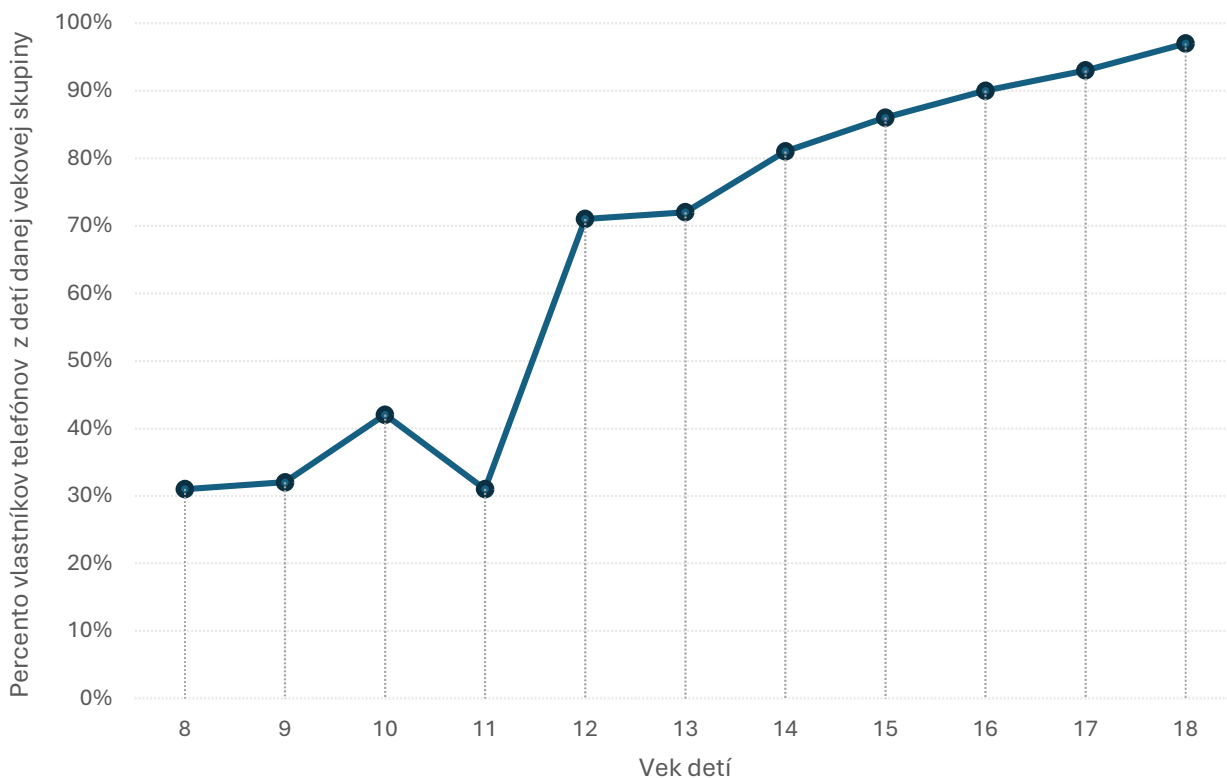
Odpoveď _____

5. Veľkou témou súčasnosti je množstvo času, ktorý ľudia trávia „pred obrazovkou“. Prezri si dáta z troch rôznych výskumov a doplňte chýbajúce číselné údaje do viet. V situáciách, kedy nie je možné údaj na základe dát doplniť, použi značku x.

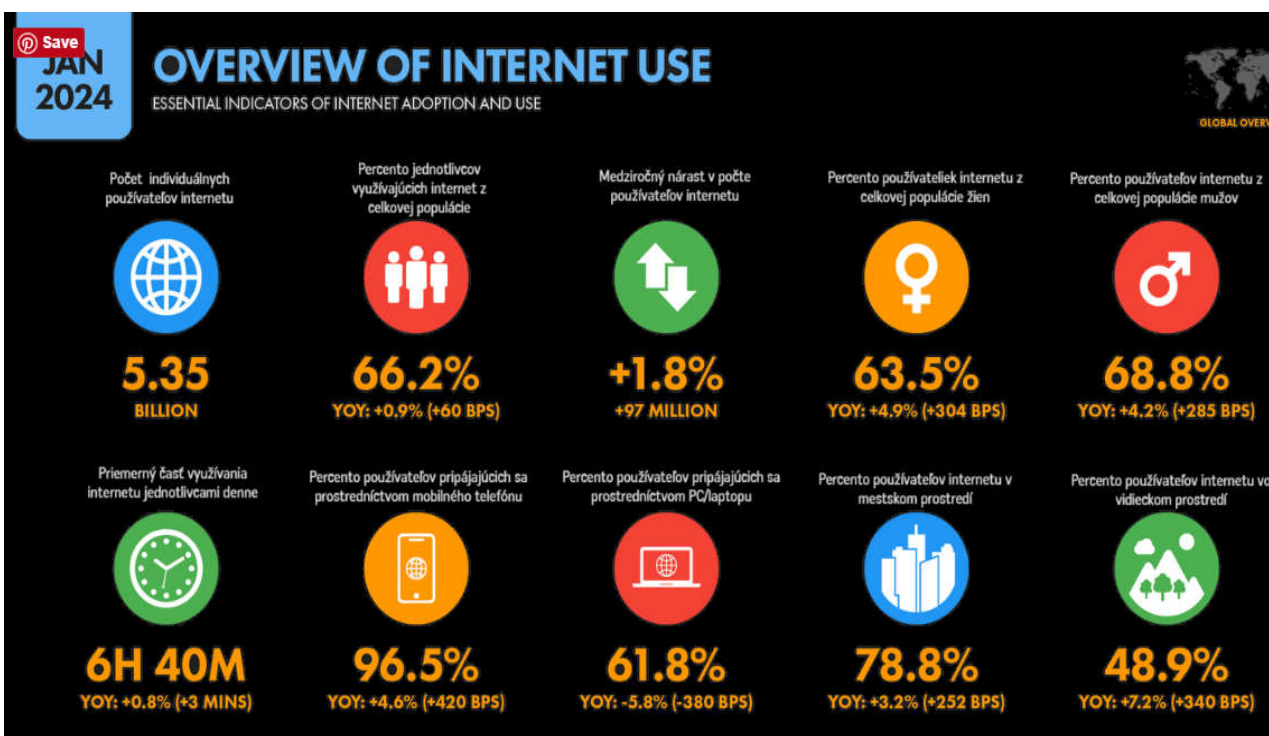
Rozdelenie času stráveného pred obrazovkou podľa typu činnosti v UK



Vlastníctvo mobilného telefónu podľa veku dieťaťa v roku 2023 v USA



Celosvetový prehľad využívania internetového pripojenia



- I. Ľudia trávajú „pred obrazovkou“ v priemere _____ hodín a _____ minút denne.
 - II. V USA už od _____ rokov vlastní telefón nadpolovičná väčšina detí tejto vekovej kategórie.
 - III. Sledovaním filmov, seriálov, správ, rôznych relácií a online videí trávajú Briti _____% celkového času stráveného „pred obrazovkou“.
 - IV. Za rok 2023 narástol počet používateľov internetu o _____ .
 - V. V dátach o vlastníctve telefónov deťmi v USA je zrejماً anomália u _____-ročných deťoch.
6. V prehľade o využívaní internetového pripojenia je uvedená skratka yoy (year-over-year). Aký má táto skratka význam?

Odpoveď _____

7. Dvojica slov *rieka* : *rameno* je v najbližšom logickom vzťahu k dvojici pojmov
- A. loď : komín
 - B. strom : konár
 - C. bager : lyžica
 - D. žirafa : krk
8. Ak si niekto oddýchne od *lopoty*, oddýchne si od
- A. driny.
 - B. loptových hier.
 - C. lží.
 - D. opletačiek.
9. V ktorej možnosti má slovo *stiesnený* iný význam než v ostatných troch?
- A. stiesnené priestory divadla
 - B. žiť v stiesnených pomeroch
 - C. dedina leží stiesnená medzi dvomi vrchmi
 - D. obranca bol razom stiesnený súperom

10. Ktoré z uvedených slov má rovnaký rytmus ako slovo *vegetarián*?

- A. červenovláska
- B. obdarovaný
- C. fantazírujúc
- D. tisícnásobne

11. Zo štyroch slovies sme vypustili všetky samohlásky. V troch prípadoch išlo o tú istú trojicu samohlások. Z ktorého slovesa sme vypustili iné samohlásky ako zo zvyšných troch?

- A. VNVŤ
- B. TPVŤ
- C. RMVŤ
- D. ČTVŤ